

ARCHEOLOGICKÉ NÁLEZY VRCHOLNÉHO STŘEDOVĚKU NA TĚŠÍNSKU
INTERAKTIVNÍ TESTY - PRACOVNÍ LISTY (1)

1. Od kdy do kdy trval vrcholný středověk?
 - a) od 5. století do poloviny 13. století
 - b) od poloviny 13. do konce 15. století
 - c) od 16. století do 19. století

2. Které z následujících měst nepatří do Těšínského Slezska?
 - a) Orlová
 - b) Místek
 - c) Fryštát
 - d) Bílsko
 - e) Skočov

3. Jak se nazývá způsob obdělávání půdy ve vrcholném středověku?
 - a) trojlodní
 - b) trojúhelný
 - c) trojpolní

4. Napište alespoň jedno drobné středověké opevnění v Jablunkovském průsmyku:
.....

5. Jaký druh kachlů je nejstarší?
 - a) prořezávané
 - b) nádobkové
 - c) komorové

6. Zakroužkujte, který z hrotů patří šípů do kuše:



a)



b)

7. Který z následujících druhů keramiky nepatří do vrcholného středověku?

- a) hrnec
- b) džbán
- c) poklička
- d) konvice
- e) amfora
- f) mísa

8. Který materiál se ve vrcholném středověku nevyskytoval?

- a) plast
- b) dřevo
- c) sklo
- d) kámen
- e) keramika

9. Která z plodin se ve vrcholném středověku nemohla pěstovat?

- a) žito
- b) brambory
- c) proso
- d) čočka
- e) hrách

10. Napište alespoň tři druhy motivů vyskytujících se na komorových kachlích:

.....
.....
.....

11. Jak se jmenoval druh okraje nádob typický pro 14.-15. století?

- a) ostění
- b) bednění
- c) okruží

12. Jaká vrstva obyvatelstva sídlila na hradech?

- a) církev
- b) měšťanstvo
- c) šlechta

13. Z jaké dílny pochází gotická madona na Starém trhu v Těšíně?

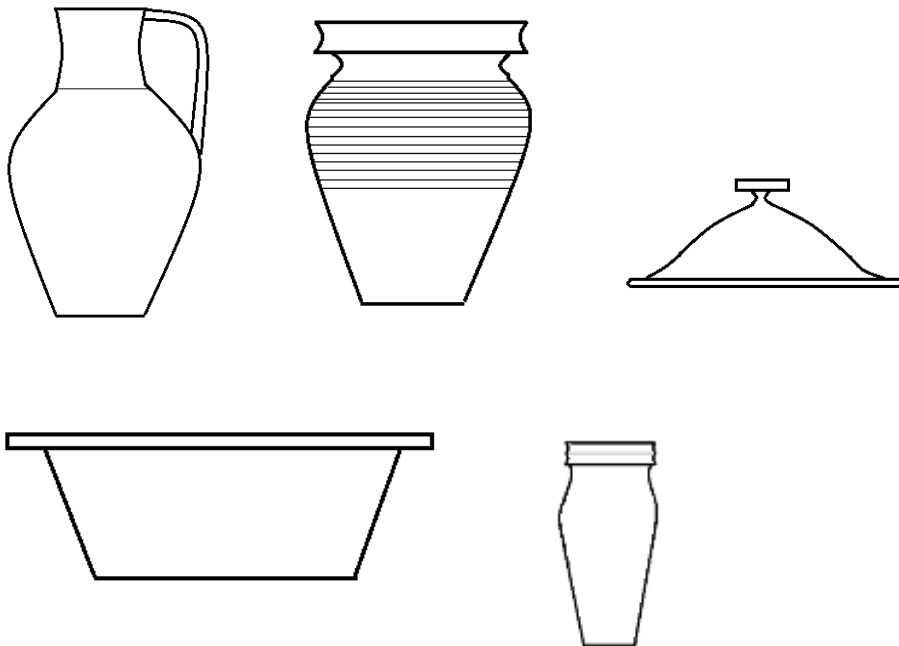
- a) z dílny mistra Theodorika
- b) z dílny Petra Parlěře
- c) z dílny mistra třeboňského oltáře

14. Na jakém hrnčířském kruhu se vyráběla vrcholně středověká keramika?

- a) rychle rotujícím
- b) pomalu rotujícím
- c) hrnčířský kruh se nepoužíval

15. Přiřaďte správné názvy jednotlivým druhům keramických nádob:

- a) hrnec
- b) poklice
- c) pohár
- d) mísa
- e) džbán



16. Která z níže zmíněných lokalit není hrad:

- a) Slezská Ostrava
- b) Bílsko
- c) Těšín
- d) Albrechtice
- e) Frýdek

17. Jak se nazývají pole přiléhající k zemědělské usedlosti?

- a) plužiny
- b) plošiny
- c) úžiny

18. Co jsou to prejzy?

- a) část dlažby
- b) část kamen
- c) krytina střechy

19. Z jaké lokality pochází soška koníčka?

- a) Albrechtice
- b) Stonava
- c) Těrlicko

20. K jakému účelu sloužila soška koníčka?

- a) jako dětská hračka
- b) ke kultovním účelům
- c) jako ozdoba

21. K čemu sloužil tzv. žernov?

- a) k broušení železných nástrojů
- b) k výrobě keramiky
- c) k mletí obilí

22. Co je to tzv. motte?

- a) drobné středověké opevnění na uměle nasypaném pahorku
- b) zásobní jáma ke skladování obilí
- c) odpadní jímka na středověké parcele

23. Vyjmenujte alespoň dvě vrcholně středověké města z oblasti Těšínska:

.....

.....

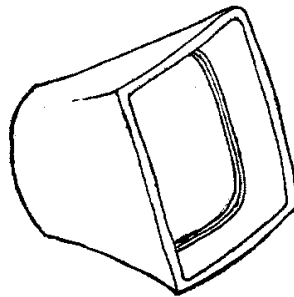
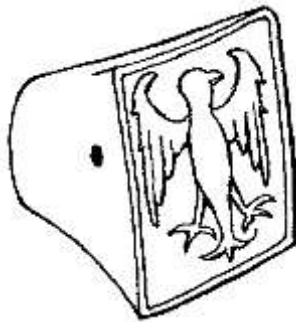

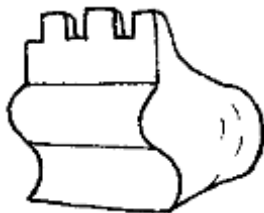
.....

24. Z jakého období pochází rotunda Sv. Mikuláše a Václava na Zámeckém vrchu?

- a) vrcholný středověk
- b) pravěk
- c) raný středověk
- d) novověk

25. Přiřaďte název jednotlivým druhům kachlů:

- a) nádobkový
- b) komorový
- c) prořezávaný
- d) vrcholový



26. Jaké zvíře bylo v erbu Těšínského knížectví?

- a) lev
- b) gryf
- c) drak
- d) orlice
- e) had
- f) medvěd

27. Pojmenujte jednotlivé druhy výzdoby:

- a) plastická
- b) rytá
- c) malovaná
- d) radélková



28. Jaké období následuje po gotice?

- a) klasicismus
- b) renesance
- c) baroko
- d) románské období

29. Jakou barvu měly nejstarší glazury?

- a) zelená, hnědá
- b) modrá, bílá
- c) červená, oranžová
- d) černá, žlutá

30. K čemu sloužily přesleny?

- a) ke tkaní látek
- b) k šití oděvů
- c) k předení nití
- d) jako ozdoba

Název projektu: Dvě města – jedna tradice / Dwa miasta – jedna tradycja
Projekt je spolufinancován Evropskou unií z prostředků ERDF
prostřednictvím Euroregionu Těšínské Slezsko – Śląsk Cieszyński.



EVROPSKÁ UNIE
EVROPSKÝ FOND PRO REGIONÁLNÍ ROZVOJ
PŘEKRAČUJEME HRANICE



UNIA EUROPEJSKA
EUROPEJSKI FUNDUSZ ROZWOJU REGIONALNEGO
PRZEKRACZAMY GRANICE