

Zlaté dukátky

Pracovní list pro 1. st. ZŠ

1) Napiš, co se ti vybaví, když se řekne „peníze“

.....

2) Co to znamená, když...

- a) si někdo pro korunu nechá vrtat koleno
- b) se o někom řekne, že je drzgrešle.....
- c) se řekne, že je něco za pakatel.....



3) K čemu slouží bankomat?

.....

4) Poznáš, co je to za měnu?



a).....



b).....

5) Součet všech našich mincí a bankovek je?

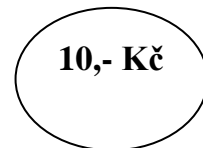
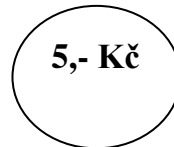
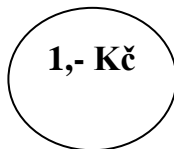
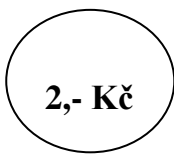
- a) 8938 b) 7998 c) 8348

6) Hodnota dukátka je 1,- Kč. Jaká je hodnota všech na tomto obrázku?

.....



7) Vyber a dopiš hodnotu mincí tak, aby odpovídala součtu v kolečku



$$\bigcirc + \bigcirc + \bigcirc = \bigcirc \text{ 8,-}$$

$$\bigcirc + \bigcirc + \bigcirc = \bigcirc \text{ 17,-}$$

$$\bigcirc + \bigcirc + \bigcirc = \bigcirc \text{ 30,-}$$

$$\bigcirc + \bigcirc + \bigcirc = \bigcirc \text{ 12,-}$$