



## Pracovní listy k výstavě Národopisná pracovnice Jiřina Králová 1. stupeň ZŠ

1. Pozorně si přečti text. A poté označ křížkem správnou odpověď u obou následujících otázek.

Jiřina Králová se narodila 9. prosince 1911 v Lazích u Orlové. Navštěvovala rodinnou školu pro dívčí povolání. Záhy se provdala a s manželem odešla na Opavsko. Od roku 1956 se svou rodinou žila v Českém Těšíně. Byla spolupracovnicí dnešního Muzea Těšínska, její zásluhou vznikla komplexní sbírka lidového oděvu spolu s podrobnou dokumentací.

Jak se jmenuje obec, ve které se narodila Jiřina Králová?

Opava

Český Těšín

Lazy u Orlové

Jakou školu paní Králová navštěvovala?

reálné gymnázium

Slezskou univerzitu

rodinnou školu

2. Na fotografii je zařízení bytu Jiřiny Králové. V obrázku vyznač věci, které tam nepatří. Zamysli se nad tím, proč by tam neměly být a svůj názor vepiš do řádků pod obrázkem.


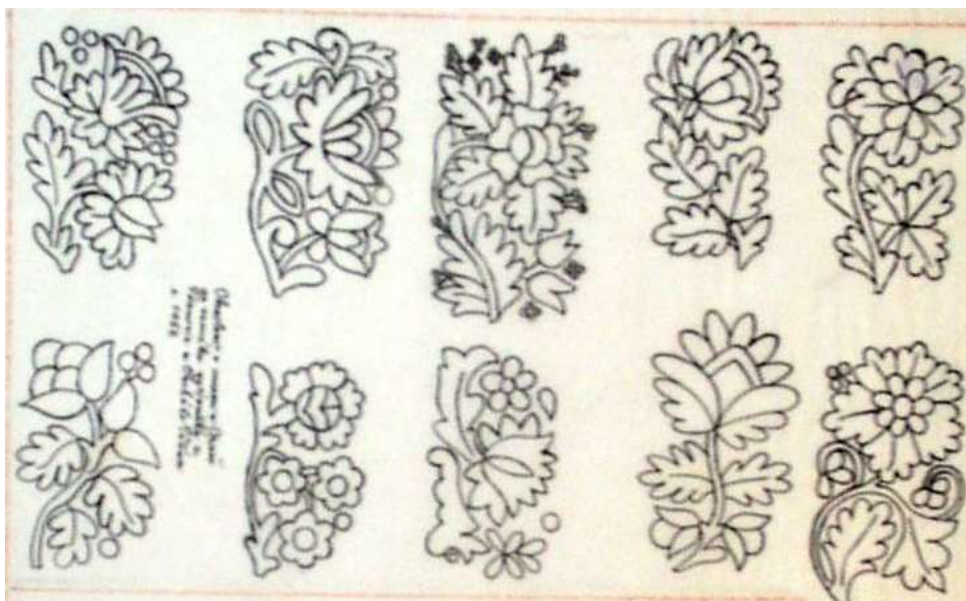


---

---

---

3. Nakresli návrh pro vyšívání šátek. Svůj návrh sestav z lidových motivů. Motivy si vytvoř vlastní nebo si vyber z obrázku.



4. Figurky z betlému paní Králové jsou oblečeny do krojů, které se nosily v různých oblastech Těšínského Slezska. *Křížkem označ fotku, na které je kroj z oblasti Orlovska. Ke všem fotografiím přiřaď správný název kroje. Označení A, B, C, D zapiš do čtverečků u jednotlivých fotografií.*



A těšínský kroj



B horalský kroj



C jablunkovský kroj



D orlovský kroj

5. *Který z krojů na fotkách se ti více líbí a proč? Svůj názor vepiš do řádků pod fotografiemi.*



Jiřina Králová ve slezskolašském kroji z okolí Orlové, foceno 1958



Jiřina Králová v těšínském kroji vdané ženy, foceno 1955


.....

.....

Název projektu: Dvě města – jedna tradice. Projekt je spolufinancován EU z prostředků ERDF prostřednictvím Euroregionu TS – ŚC.



EVROPSKÁ UNIE  
EVROPSKÝ FOND PRO REGIONÁLNÍ ROZVOJ  
PŘEKRAČUJEME HRANICE



UNIA EUROPEJSKA  
EUROPEJSKI FUNDUSZ ROZWOJU REGIONALNEGO  
PRZEKACZAMY GRANICE

