

# Orlová – minulost i současnost



Pracovní listy pro 2. stupeň ZŠ

1. O založení Orlové vznikla pověst. Ve Starých pověstech slezských F. R. Jury je napsána tato její podoba.

*(Přečtěte si ukázkou z pověsti O původu Orlové a doplňte chybějící slova.)*

...Za plné, pohody dojela družina s knížetem i kněžnou až pod skalnaté návrší – v místa nynější . Zemdlená těla, ochablé paže i lovem vybičované mysli toužily po . Lovci se rozložili pod mohutnými stinných dubů a posilnili se z hliněných nádob ; znovu mocně zazněly radostné zvuky rohů i . Pak tichý mír a klid se rozhostil nad krajinou. Panstvo i čeleď odpočívali. , utrmácena rušným lovem, usínala uprostřed dívčí čeledi. Náhle se snesla na korunu nejbližšího dubu družina orlů. Statný orel s kořistí v nečekaně pustil úlovek přímo k nohám ničeho netušící kněžny. prudce z tichého odpočinku, kněžna tak silně, že na témž místě, pod korunami staletých dubů povila synáčka...


Vyrušena píšťal slunné medovinou Kněžna  
zdravého Orlové ulekla se odpočinku zobanu větve

2. Ve kterém roce se v dochovaných písemnostech poprvé uvádí název Orlová?

- a) 1223                      b) 1466                      c) 1268                      d) 1227

3. Nový klášterní kostel, který nechali postavit benediktýni, byl vysvěcen roku 1466.

*(O kterou budovu kostela se jedná? Vyber správný obrázek.)*



4. Kdo nechal v roce 1765 v blízkosti kostela vystavět zámek?

a) Karel Jindřich Bludovský



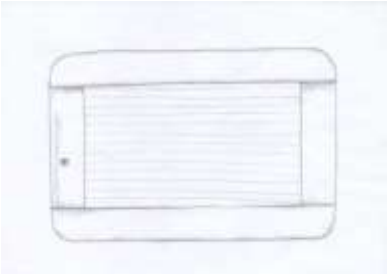



b) Salomon Albert Rotschild

c) Arnošt Leberecht Bludovský

d) Václav Cigán ze Slupska

5. Od poloviny 40. let 19. století se v Orlové započalo s těžbou uhlí. Lidé se zde stěhovali za prací v uhelných dolech. Díky tomu roste počet obyvatel a tvář Orlové se začíná výrazně měnit.

*(Najdi ve výstavní síni zobrazené předměty a napiš jejich názvy, případně k čemu sloužily.)*

6. Ve kterém roce byla založena soukromá dívčí klášterní škola Milosrdných sester sv. Karla Boromejského?

a) 1877

b) 1911

c) 1870

d) 1900

7. Která budova je zobrazena na obrázku?



8. Ve kterém roce se v Orlové konala krajinská národopisná výstava?

a) 1895

b) 1894

c) 1890

d) 1896

9. Najdi na mapě současné základní školy. (Spoj čarou názvy s ikonami na mapě.)

ZŠ Karla Dvořáčka

ZŠ Školní

ZŠ Jarní

ZŠ Mládí



ZŠ Slezská

ZŠ Polní

ZŠ U Kapličky

ZŠ Ke Studánce

